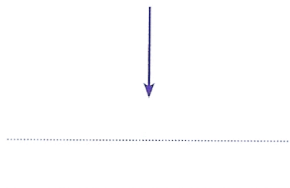
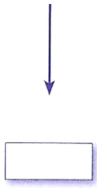



## Heure et minute.

1. Indique l'heure 12 heures après.

02 : 10

6 heures et demie du matin



2. Voici un extrait du programme d'une chaîne télévisée consacrée aux documentaires.

**Mardi 23 mars**

16 h 05 - *Les peintres de la Renaissance*

16 h 45 - *Les espèces animales menacées*

17 h 30 - *Les découvertes scientifiques du XX<sup>e</sup> siècle*

19 h 00 - *Les peuples du Pacifique*

Réponds aux questions.

- Quel documentaire commence à 5 heures moins le quart ?
- Quel documentaire passe à la télévision à 16 h 30 ?
- À quelle heure commence « Les peuples du Pacifique » ?

## Heure et minute.

Découpe les horloges, puis colles-les dans les cases qui conviennent.

4 heures 20  
du matin

19 : 35

13 h 15

8 heures  
moins le quart

