

Géométrie cm

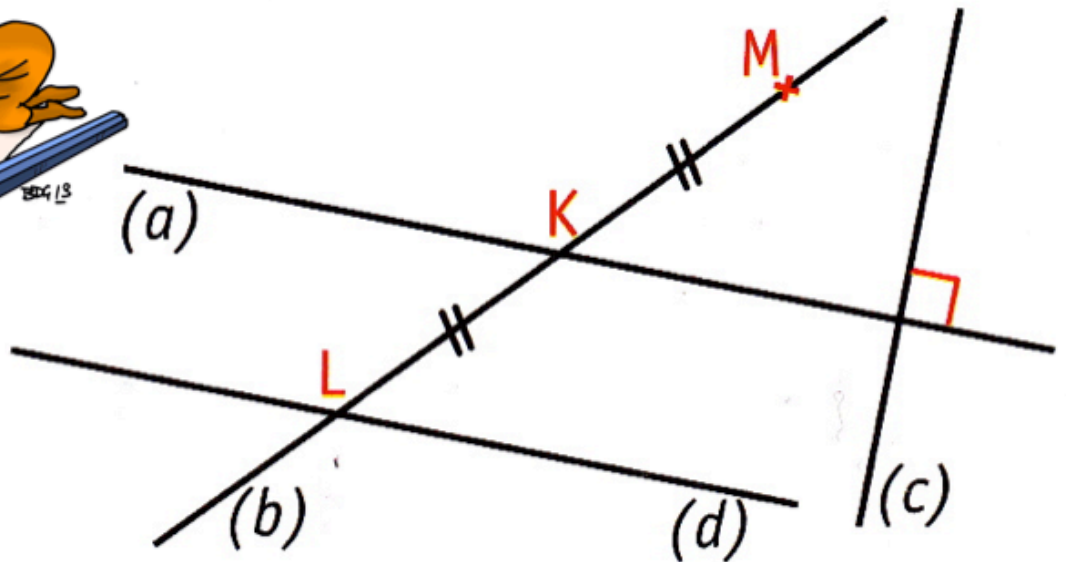
Fiche 1

Code et Vocabulaire

Score : 120

1

Complète avec le vocabulaire de la leçon.



- a) L, K, M sont
- b) L est le des droites (d) et (b).
- c) (d) et (b) sont
- d) [LK] et [KM] sont
- e) K est le de [LM].

2

Laquelle de ces figures est un carré. Justifie ta réponse.

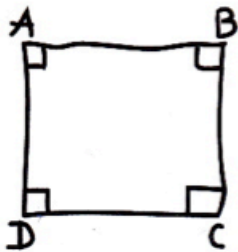


Figure 1

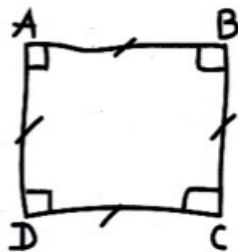


Figure 2

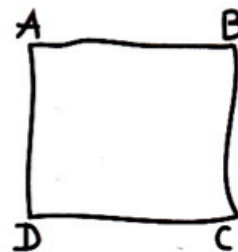


Figure 3



.....

.....

.....