


## La monnaie.



Colle 2 pièces pour faire 1 €.

Complete :

1 euro = \_\_\_\_\_ centimes

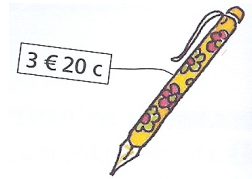


Colle les pièces et les billets nécessaires pour payer ce réveil.



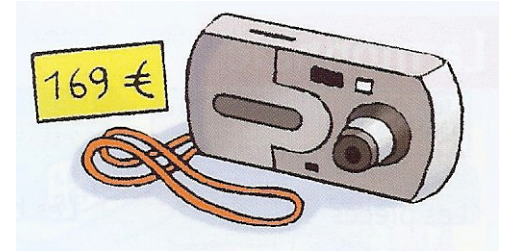
Marion a donné deux pièces de 2 € pour acheter un stylo.

Colle les pièces que lui rend le marchand.



## La monnaie.

1. Quels billets et quelles pièces dois-tu donner pour acheter cet appareil photo ?



2. Calcule la somme totale, en euros et centimes d'euro, de chaque ensemble de pièces.

